

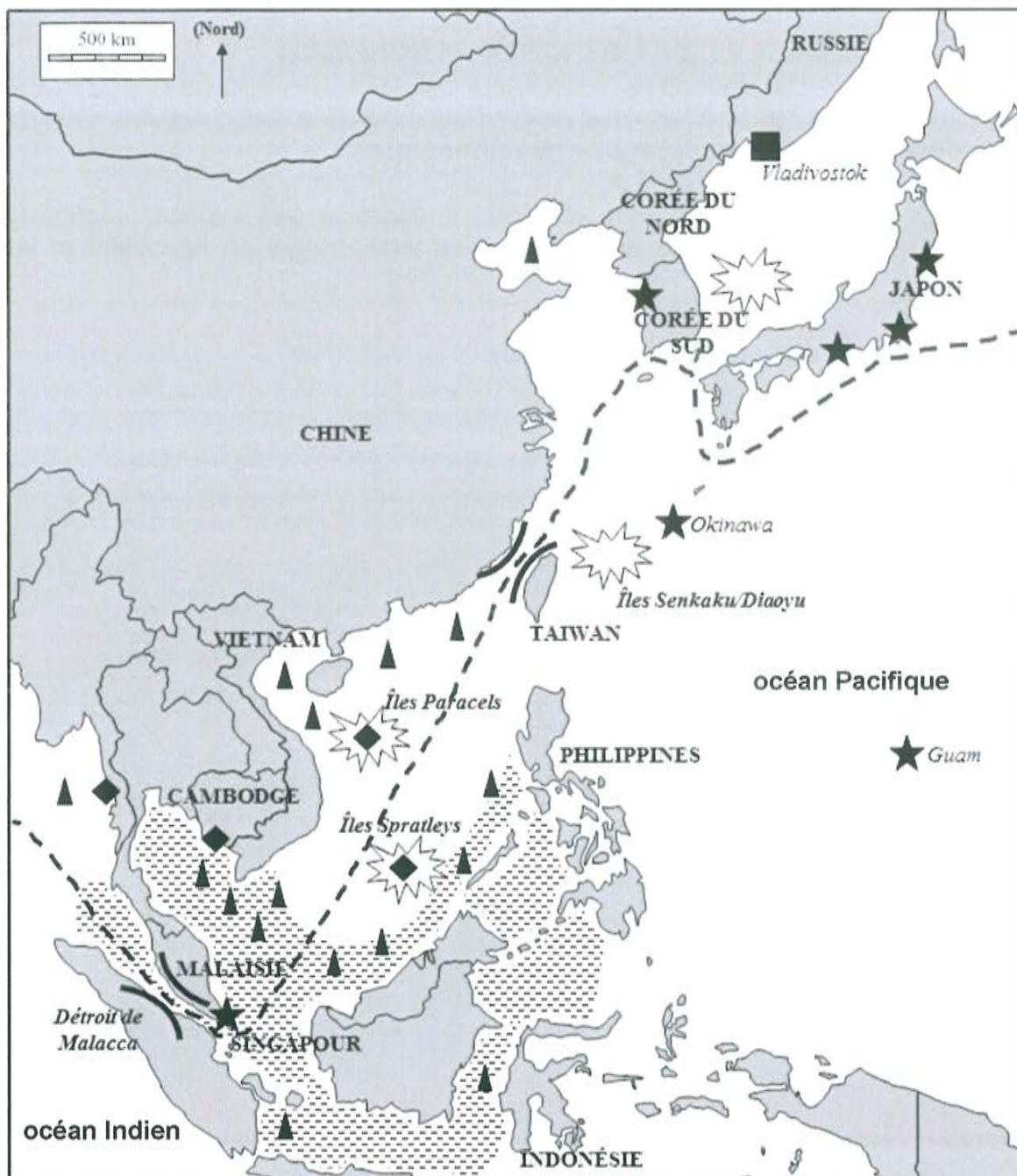
DEUXIÈME PARTIE

Analyse de deux documents en géographie









Sujet – Les espaces maritimes : approche géostratégique

Consigne : analysez les documents pour montrer l'importance des espaces maritimes dans la mondialisation. Vous mettrez en évidence les tensions qui en découlent et les acteurs impliqués.

Document 1 – Les espaces maritimes de l'Asie Orientale



Légende :

-  Liaison maritime majeure du commerce mondial
-  Point de passage stratégique
-  Zone de piraterie
-  Principaux gisements d'hydrocarbures
-  Conflit de souveraineté lié aux espaces maritimes
-  Installation militaire chinoise en dehors de la Chine continentale.
-  Base importante de la VII^{ème} flotte des Etats-Unis dans le Pacifique.
-  Base navale militaire russe

D'après la revue *Diplomatie*, « Grands dossiers », n°10, *Géopolitique des mers et océans*, août-septembre 2014

Document 2 - Une affiche diffusée par le gouvernement vietnamien



Traduction du bandeau inférieur :

En vietnamien : *Les archipels Trường Sa (Spratleys) et Hoàng Sa (Paracels) appartiennent à la République Socialiste du Vietnam.*

En anglais : *Les îles Paracels et les îles Spratleys du Vietnam.*

Les chiffres indiqués correspondent aux coordonnées géographiques (latitude et longitude) des archipels.

Affiche publiée à de multiples reprises depuis 2008. Site de François Guillemot, ingénieur de recherche CNRS, ENS-Lyon, <http://indomemoires.hypotheses.org/13020>, consulté le 12 septembre 2016